

ΙΔΙΩΤΙΚΑ ΕΚΠΑΙΔΕΥΤΗΡΙΑ «ΡΟΔΙΩΝ ΠΑΙΔΕΙΑ»
ΓΡΑΠΤΟΙ ΔΙΑΓΩΝΙΣΜΟΙ ΓΙΑ ΤΟ ΠΡΟΓΡΑΜΜΑ ΥΠΟΤΡΟΦΙΩΝ
ΣΧΟΛΙΚΟΥ ΕΤΟΥΣ 2013 -2014
ΒΑΘΜΙΔΑ: ΔΗΜΟΤΙΚΟ ΤΑΞΗ: Γ΄
ΡΟΔΟΣ, 16 ΙΟΥΝΙΟΥ 2013

Διάβασε προσεκτικά τις ερωτήσεις. Προσπάθησε να απαντήσεις με σαφήνεια σε όσο το δυνατόν περισσότερα θέματα, μέσα στο χρονικό περιθώριο που έχεις.

Οι απαντήσεις σου πρέπει να αναπτυχθούν στον χώρο που υπάρχει μετά από κάθε ερώτηση, με μολύβι. Μπορείς να συνεχίσεις και στον χώρο των κενών σελίδων εφόσον εξαντληθούν οι υπάρχουσες κενές γραμμές στα θέματα. Επίσης, τις κενές σελίδες μπορείς να τις χρησιμοποιήσεις και για πρόχειρο.

ΚΑΛΗ ΕΠΙΤΥΧΙΑ!

ΘΕΜΑΤΑ ΓΛΩΣΣΑΣ

1. Να συμπληρώσεις ορθογραφημένα τα κενά του παρακάτω άρθρου και να τονίσεις όπου χρειάζεται:



Με εξαφάνιση απειλούντ__ οι τίγρ__ς στην ευρύτερη περιοχή του Μεκόνγκ, καθώς μέσα σε μια δεκαετία ο αριθμός τους μειώ__κε κατά τουλάχιστον 70%, εξαιτίας της λαθροθηρίας και της καταστροφής του φυσικού τους περιβάλλοντος. Σύμφωνα με έκθεσ__ της περιβαλλοντικής οργάνωσης WWF, ο πληθυσμός τ__ν τίγρεων στην περιοχή που περιλαμβάνει την Καμπότζη, το Λάος, τη Μιανμάρ, την Ταϊλάνδη και το Βιετνάμ, μει__θηκε σε 350 από 1.200 που ήταν το 1998. Παγκοσμίως, ο αριθμός των τίγρεων είναι 3.200, ο μικρότερος μέχρι σήμερα, από περίπου 5.000 με 7.000 που ήταν πριν από 12 χρόνια. Οι τίγρεις θανατώνονται παράνομα για να ικανοποιηθεί η αυξημένη ζήτηση για τα μέρη εκείνα του σώματός τους, τα οποία χρησιμοποιούνται στην παραδοσιακή κινεζική ιατρική. Η καταστροφή των δασ__ν, που αποτελούν το φυσικό τους περιβάλλον, έχει επίσης συμβάλ__ στη μείωση του πληθυσμού τους, αναφέρει η έκθεση, η οποία δόθηκε στη δημοσιότητα πριν από το κινεζικό «Έτος της Τίγρης». Στις ασιατικές χώρες ανθεί το λαθρεμπόριο άγριων ζώων, το οποίο η Ιντερπόλ εκτιμά στα 20 δισεκατομμύρια δολάρια και πλέον, τον χρόνο. Τα δέρματα των τίγρεων π__λούνται στη μαύρη αγορά σαν χαλιά και κάπες και μπορούν να αποφέρουν ως και 20.000 δολάρια σε χ__ρες όπως η Κίνα.

2. Προσπάθησε να απαντήσεις (ολοκληρωμένα) στις ερωτήσεις που ακολουθούν:

- **Το παραπάνω άρθρο αναφέρεται σε: (κύκλωσε το σωστό)**

A. καταστροφή του περιβάλλοντος B. εξαφάνιση των τίγρεων
Γ. αύξηση των τίγρεων Δ .περιβαλλοντικές οργανώσεις

Μονάδες: 2

- **Πόσος είναι ο αριθμός των τίγρεων παγκοσμίως σήμερα; (κύκλωσε το σωστό)**

A. 350 B. 1.200 Γ. 5.000 Δ. 3.200

Μονάδες: 2

- **Σύμφωνα με την έκθεση της περιβαλλοντικής οργάνωσης WWF, σε ποιες περιοχές παρατηρήθηκε μείωση του πληθυσμού των τίγρεων σε 350 από 1.200 που ήταν το 1998;**

Μονάδες: 3

- **Ποιοι είναι κατά τη γνώμη σου οι λόγοι που απειλούν με αφανισμό τις τίγρεις;**

Μονάδες: 8

3. Μπορείς να συμπληρώσεις τα κενά στις παρακάτω οδηγίες για την προστασία της άγριας φύσης, με τα ρήματα της παρένθεσης στο σωστό τύπο και στο κατάλληλο πρόσωπο;

- _____ (προστατεύω) την άγρια ζωή.
- Μην _____ (αγοράζω) προϊόντα από ζώα ή φυτά που _____ (βρίσκομαι) σε κίνδυνο, όπως γούνες, δέρμα ερπετών, κοράλλι, ταρταρούγα, ελεφαντόδοντο.
- Μην _____ (προτιμώ) για κατοικίδιο κάποιο ζώο που έχει αφαιρεθεί από το φυσικό του περιβάλλον. Παπαγάλοι, τουκάν και πολλά άλλα τροπικά πουλιά, καθώς και ορισμένα ερπετά, _____ (συλλαμβάνομαι) συχνά παράνομα σε χώρες του εξωτερικού και _____ (εισάγομαι) στη χώρα μας.
- _____ (επικοινωνώ) με τις οργανώσεις που _____ (ασχολούμαι) με την προστασία του φυσικού περιβάλλοντος, για να _____ (μαθαίνω) τι άλλο μπορείς να _____ (κάνω).

Μονάδες: 5

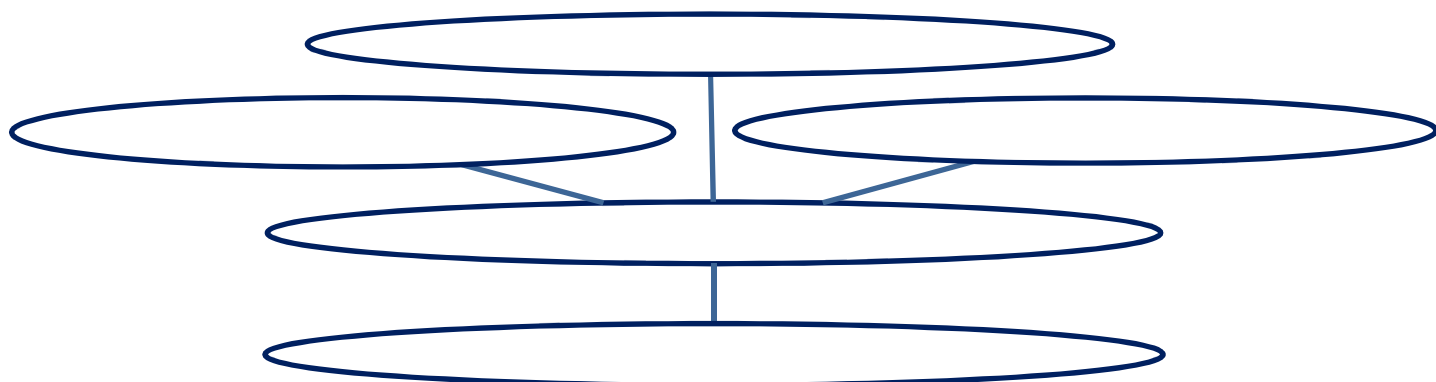
4. Να βρεις και να υπογραμμίσεις τα κατηγορούμενα στο παρακάτω κείμενο, αφού πρώτα εντοπίσεις και κυκλώσεις τα συνδεδεικμένα ρήματα.



Η **Κινέζικη Αστρολογία** βασίζεται σε έναν 12ετή κύκλο. Κάθε ένα από τα 12 έτη του κύκλου παίρνει το όνομα ενός από τα 12 ζώδια τα οποία αναπαρίστανται από 12 ζώα ή πλάσματα. Ο ζωδιακός κύκλος ξεκινάει με τον Ποντικό και τελειώνει με το Γουρούνι. Τα 12 ζώα είναι κατά σειρά ο ποντικός, το βουβάλι, η τίγρη, το κουνέλι, ο δράκος, το φίδι, το άλογο, το πρόβατο, ο πίθηκος, ο πετεινός, ο σκύλος και το γουρούνι.

Μονάδες: 5

5. Η λέξη λαθροθηρία αποτελείται από τη λέξη «λάθρα» που σημαίνει κρυφά και «θήρα» που σημαίνει κυνήγι. Μπορείς να βρεις κι άλλες σύνθετες λέξεις με πρώτο συνθετικό τη λέξη λάθρα-:



Μονάδες: 5

6. Παρατήρησε προσεκτικά τον παρακάτω πίνακα εποχής του Κινέζικου ημερολογίου και απάντησε στις ερωτήσεις που ακολουθούν:

Χρονιά	Αστρολογικό σύμβολο	Κινέζικο ζώδιο
Φεβ. 14 2010 - Φεβ. 02 2011	寅	Τίγρης
Φεβ. 03 2011 - Ιαν. 22 2012	卯	Κουνέλι
Ιαν. 23 2012 - Φεβ. 09 2013	辰	Δράκος
Φεβ. 10 2013 - Ιαν. 30 2014	巳	Φίδι
Ιαν. 31 2014 - Φεβ. 18 2015	午	Αλογο
Φεβ. 19 2015 - Φεβ. 07 2016	未	Πρόβατο
Φεβ. 08 2016 - Ιαν. 27 2017	申	Πίθηκος
Ιαν. 28 2017 - Φεβ. 18 2018	酉	Πετεινός
Φεβ. 19 2018 - Φεβ. 04 2019	戌	Σκύλος
Φεβ. 05 2019 - Ιαν. 24 2020	亥	Γουρούνι
Ιαν. 25 2020 - Φεβ. 11 2021	子	Ποντικός
Φεβ. 12 2021 - Ιαν. 31 2022	丑	Βουβάλι
Φεβ. 01 2022 - Ιαν. 21 2023	寅	Τίγρης
Ιαν 22 2023 - Φεβ. 09 2024	卯	Κουνέλι

• Σύμφωνα με το κινέζικο ημερολόγιο τι έτος έχουμε τώρα;

• Πότε είχαμε το «Έτος της Τίγρης» και πότε θα ξαναέχουμε το «Έτος της Τίγρης»;



ΘΕΜΑΤΑ ΜΑΘΗΜΑΤΙΚΩΝ:

Θέμα 1^ο: ΟΚώστας πλήρωσε 4,50€ για 3 μολύβια που αγόρασε. Ο Γιάννης πλήρωσε 56 € για 8 τετράδια. Πόσα θα πληρώσει η Νικολέτα για 10 μολύβια και 4 τετράδια;

A) 34€

B) 43 €

Γ) 4,50 €

Δ) 36 €

E) 38,5 €

(4 βαθμοί)

Εδώ μπορείς να κάνεις τις πράξεις αν χρειαστεί...

Θέμα 2^ο: Η μητέρα της Δέσποινας έφτιαξε μια μεγάλη πίτσα, όπως φαίνεται στο σχήμα. Μπορείς να υπολογίσεις πόσα κομμάτια πίτσας έφαγε κάθε ένα από τα μέλη της οικογένειας;

Έφαγα το $\frac{1}{4}$ της πίτσας.



Έφαγα το $\frac{1}{3}$ της πίτσας.



Έφαγα ένα κομμάτι λιγότερο από τον μπαμπά.



Έφαγα τη μισή ποσότητα από ό,τι έφαγε ο μπαμπάς.



(4 βαθμοί)

Θέμα 3^ο: Οι 86 καλεσμένοι ενός γάμου θα μεταφερθούν στο κέντρο της δεξίωσης με ταξί. Κάθε ταξί μπορεί να μεταφέρει μέχρι 4 καλεσμένους. Πόσα ταξί θα χρειαστούν για να μεταφερθούν όλοι οι καλεσμένοι;

A) 20

B) 21

Γ) 22

Δ) 10

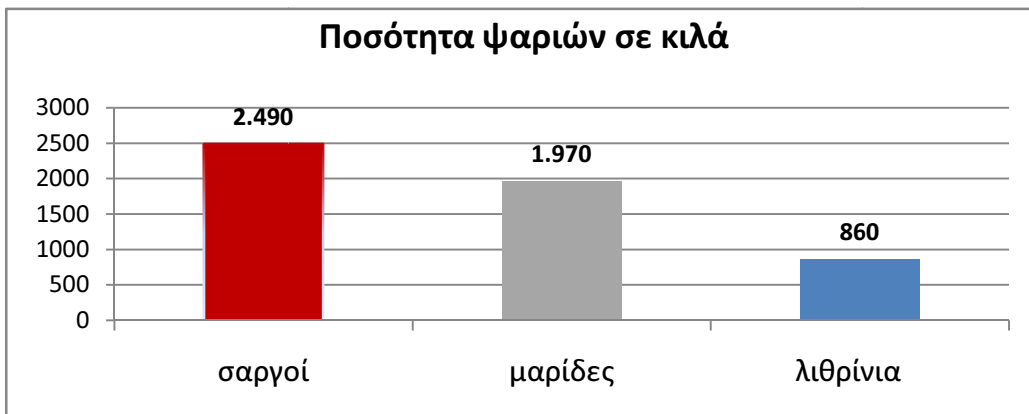
Ε) 19

Εδώ μπορείς να κάνεις τις πράξεις αν χρειαστεί...

(6 βαθμοί)



Θέμα 4^ο : Στο διάγραμμα βλέπεις την ποσότητα ψαριών που ψάρεψαν οι ψαράδες της Ρόδου σε μία εβδομάδα.



Παρατήρησε το διάγραμμα.

Για τις προτάσεις που ακολουθούν να γράψεις μέσα στην παρένθεση τη λέξη «Σωστό» αν η πρόταση είναι σωστή, ή «Λάθος» αν η πρόταση είναι λάθος.

- * **Οι ψαράδες ψάρεψαν συνολικά 5.100 κιλά ψάρια. (.....)**
- * **Τα λιθρίνια και οι μαρίδες μαζί δεν ξεπερνούν τα 3.000 κιλά.(.....)**
- * **Οι μαρίδες είναι 1.200 κιλά περισσότερες από τα λιθρίνια. (.....)**
- * **Οι σαργοί και οι μαρίδες είναι λιγότερα από 4.000 κιλά. (.....)**

(8 βαθμοί)

Εδώ μπορείς να κάνεις τις πράξεις αν χρειαστεί...


Θέμα 5° : Ένα ψωμί μπορεί να κοπεί σε 28 φέτες. Για να φτιάξουμε ένα τoστ, χρειαζόμαστε 2 φέτες ψωμί. Πόσα τoστ μπορούμε να φτιάξουμε αν έχουμε δυόμισι ψωμιά;

- A) 70 B) 25 Γ) 35 Δ) 50 Ε) 28



(6 βαθμοί)

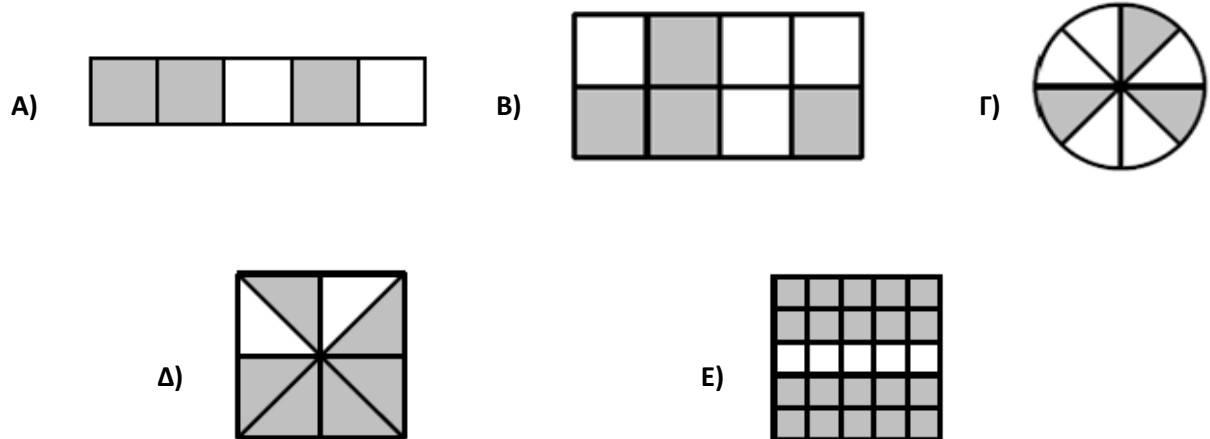
Θέμα 6°: Παρακάτω παρουσιάζεται ένα μοτίβο. Ποιο θα είναι το 51ο φρούτο του μοτίβου;



- A)  B)  Γ)  Δ)  Ε) 

(8 βαθμοί)

Θέμα 7°: Σε ποιο από τα παρακάτω σχήματα το σκιασμένο μέρος είναι μεγαλύτερο από τα $\frac{3}{4}$ της συνολικής επιφάνειας του σχήματος;



(4 βαθμοί)

ΘΕΜΑΤΑ ΑΓΓΛΙΚΩΝ:

Answer the questions. Write sentences.

1. How old are you?

2. What class are you in at school?

3. What is your favourite food?

4. What do you eat for lunch?

(20 βαθμοί)