

## ΙΔΙΩΤΙΚΑ ΕΚΠΑΙΔΕΥΤΗΡΙΑ «ΡΟΔΙΩΝ ΠΑΙΔΕΙΑ»

ΓΡΑΠΤΟΙ ΔΙΑΓΩΝΙΣΜΟΙ ΓΙΑ ΤΟ ΠΡΟΓΡΑΜΜΑ ΥΠΟΤΡΟΦΙΩΝ ΣΧΟΛΙΚΟΥ ΕΤΟΥΣ 2012-2013

ΤΑΞΗ .....ΒΑΘΜΙΔΑ.....

ΡΟΔΟΣ 20 ΜΑΪΟΥ 2012

Διάβασε προσεκτικά τις ερωτήσεις και προσπάθησε να απαντήσεις με σαφήνεια σε όσο το δυνατόν περισσότερα θέματα και μέσα στο χρονικό περιθώριο που έχεις.

Οι απαντήσεις σου πρέπει να αναπτυχθούν στο χώρο που υπάρχει μετά από κάθε ερώτηση, με μολύβι. Μπορείς να συνεχίσεις και στο χώρο των κενών σελίδων εφόσον εξαντληθούν οι υπάρχουσες κενές γραμμές στα θέματα. Επίσης τις κενές σελίδες μπορείς να χρησιμοποιήσεις και για πρόχειρο.

ΚΑΛΗ ΕΠΙΤΥΧΙΑ!

**ΘΕΜΑΤΑ ΓΛΩΣΣΑΣ**

**1. Διάβασε προσεκτικά και συμπλήρωσε ορθογραφημένα τα κενά του παρακάτω άρθρου από την εφημερίδα ΒΗΜΑ και τόνισε όπου χρειάζεται:**

« Έως τον Ιούνιο του 2013 θα έχουν παραδοθ\_\_\_  
 οριστικά σε χρήση για το επιβατ\_\_\_κό κοινό της Αττικής οι  
 επτά νέοι σταθμ\_\_\_ Μετρό των γραμμ\_\_\_ν 2 και 3.



Τα οφέλη από την ολοκλήρωση του έργου θα είναι:

- Επτά νέοι σταθμοί σε λειτουργία εντός του 2013: «Ηλιούπολη», «Άλιμος», «Αργυρούπολη», «Ελληνικό», «Περιστερί», «Ανθούπολη» και «Αγ. Μαρίνα» και 6 νέοι σταθμοί στην επέκταση προς Πειραιά το 2017.
- Εξήντα οκτώ χλμ. δικτύου συνολικά με 46 σταθμούς.
- Εξυπηρέτ\_\_\_ση όλων των δήμ\_\_\_ν.
- Απ' ευθείας σύνδεσ\_\_\_ του λιμανιού του Πειραιά με το αεροδρόμιο Ελ. Βενιζέλος σε 45 περίπου λεπτά.
- Εξυπηρέτ\_\_\_ση 292.000 επιβατών ημερησί\_\_\_ς.
- Έσοδα από εισιτήρια περίπου 330.000 € ημερησί\_\_\_ς.
- Ημερήσια μεί\_\_\_ση αυτοκινήτ\_\_\_ν στους δρόμους κατά 55.000 περίπου.
- Μεί\_\_\_ση ρύπων στην ατμόσφαιρα της \_\_\_θήνας και του \_\_\_ειραιά».



ΑΤΤΙΚΟ METRO

**2 . Προσπάθησε να απαντήσεις (ολοκληρωμένα) στις ερωτήσεις που ακολουθούν:**

• Το παραπάνω άρθρο αναφέρεται σε:

- A. χρήσιμες οδηγίες για το Μετρό
- B. νέους σταθμούς του Μετρό και τα οφέλη από την ολοκλήρωση του έργου
- Γ. μείωση ρύπων στο λιμάνι του Πειραιά
- Δ. αύξηση της κίνησης των αυτοκινήτων

- Πότε θα παραδοθούν σε λειτουργία οι νέοι σταθμοί στην επέκταση προς Πειραιά;

A. Το 2013      B. Τον Ιούνιο του 2013      Γ. Το 2017      Δ. Τον Ιούνιο του 2012

- Ποιοι είναι οι επτά νέοι σταθμοί που θα λειτουργήσουν το 2013;

---

---

---

---

- Από τα οφέλη που αναφέρονται στο παραπάνω άρθρο ποιο ή ποια θεωρείς πιο σημαντικό/ά και γιατί;

---

---

---

---

---

---

---

---

---

---


---

---

### 3. Μπορείς να υπογραμμίσεις στις παρακάτω οδηγίες τα ρήματα που είναι στην προστακτική;

#### *Για την ασφάλειά σας...*

- Κρατάτε τα μικρά παιδιά από το χέρι ώστε να μην πλησιάζουν την άκρη της αποβάθρας.
- Για την επιβίβασή σας περιμένετε να σταματήσει εντελώς ο συρμός και να ολοκληρωθεί η αποβίβαση των επιβατών.
- Προσέξτε το κενό μεταξύ συρμού και αποβάθρας κατά την επιβίβαση και αποβίβαση.



4. Προσπάθησε να μετατρέψεις τα ρήματα που υπογράμμισες στην άσκηση 3 σε β' ενικό πρόσωπο χωρίς να αλλάξεις το χρόνο.

---

---

---

5. Μπορείς να μετατρέψεις την παρακάτω πρόταση σε εξακολουθητικό μέλλοντα και στιγμιαίο μέλλοντα;

➤ Το τρένο αναχωρεί άμεσα μετά το χαρακτηριστικό ήχο.

Εξακολουθητικός μέλλοντας: \_\_\_\_\_

---

Στιγμιαίος Μέλλοντας: \_\_\_\_\_

---

➤ Οι επιβάτες ανεβαίνουν γρήγορα στο τρένο.

➤ Εξακολουθητικός μέλλοντας: \_\_\_\_\_

---

➤ Στιγμιαίος Μέλλοντας: \_\_\_\_\_

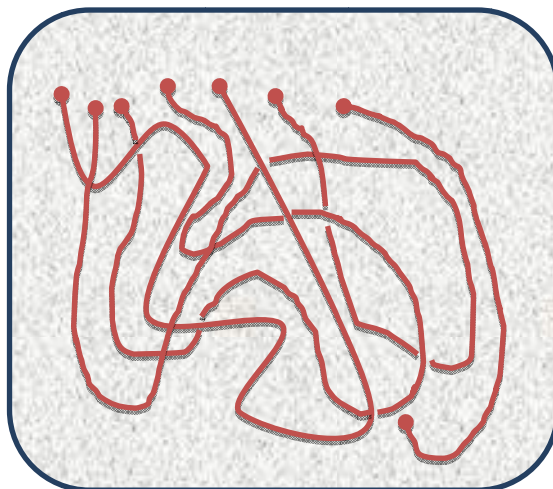
---





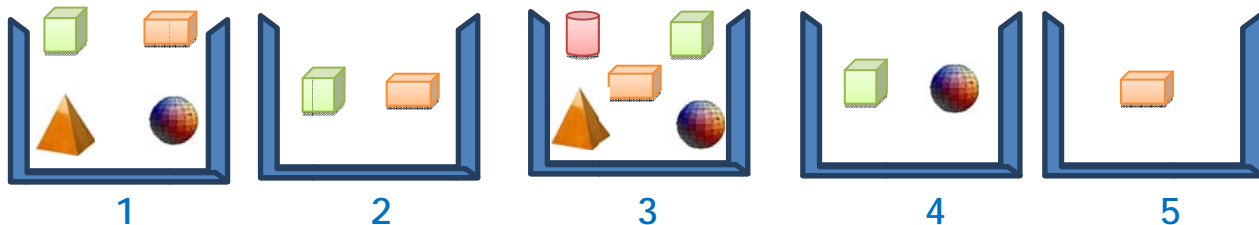
**ΘΕΜΑΤΑ ΜΑΘΗΜΑΤΙΚΩΝ**

1. Πόσα κομμάτια σκοινί υπάρχουν στην εικόνα; Κύκλωσε το σωστό.



- α) 3                      β) 5                      γ) 6                      δ) 4                      ε) 7

2. Έχω 5 κουτιά και σε κάθε κουτί βρίσκονται ορισμένα στερεά σχήματα, όπως φαίνεται στο παρακάτω σχήμα. Ο Νίκος θέλει να βγάλει κάποια σχήματα απ' το κουτί ώστε στο τέλος να μείνει από ένα σχήμα σε κάθε κουτί, και κάθε κουτί να περιέχει διαφορετικό σχήμα. Ποιο σχήμα θα μείνει στο κουτί 1; Κύκλωσε το σωστό.



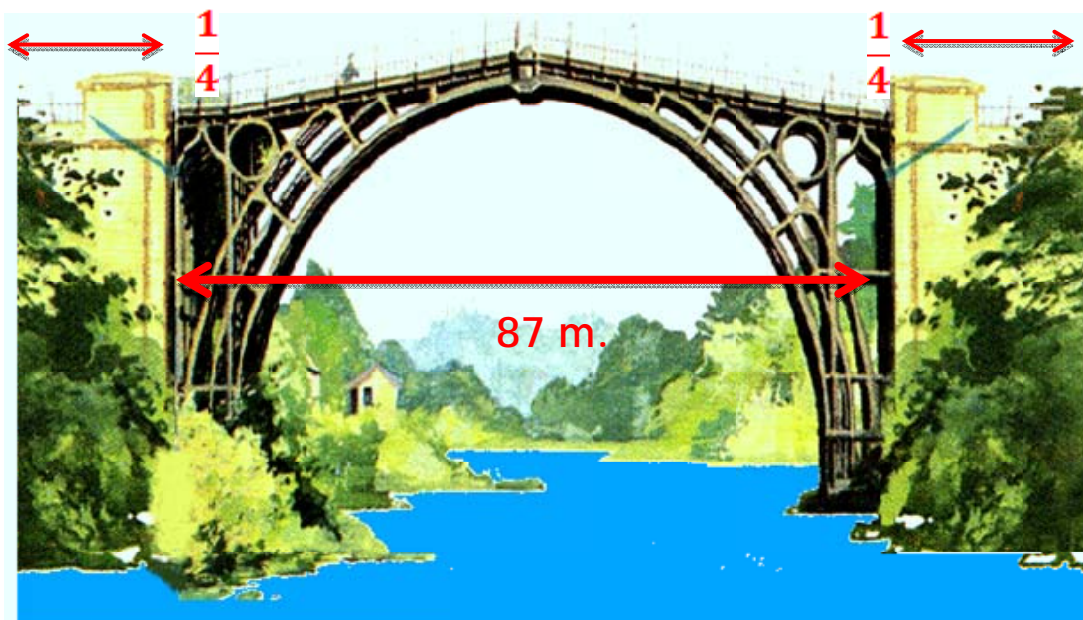
- α)                      β)                      γ)                      δ)                      ε)

3. Παρακάτω παρουσιάζεται η αρχή ενός μοτίβου που αποτελείται από 16 αριθμούς. Πόσες φορές εμφανίζεται ο αριθμός 6 σε ολόκληρο το μοτίβο; Κύκλωσε το σωστό.

**1    2    4    7    11    ...**

- α) 3                      β) 4                      γ) 5                      δ) 6                      ε) 7

4. Μια γέφυρα ενώνει ένα χωριό, το οποίο χωρίζεται από έναν ποταμό. Το ποτάμι έχει πλάτος 87 μέτρα. Το  $\frac{1}{4}$  της γέφυρας είναι πάνω από τη γη στα αριστερά του ποταμού και το άλλο  $\frac{1}{4}$  της γέφυρας είναι πάνω από τη γη στα δεξιά του ποταμού. Πόσο είναι το μήκος της γέφυρας; Κύκλωσε το σωστό.



- α) 150 m.      β) 162 m.      γ) 174 m.      δ) 178 m.      ε) 184 m.

5. Στην τελευταία σχολική εκδρομή που έγινε μετακινήθηκαν με λεωφορεία 18 μαθητές της Γ' τάξης, 24 μαθητές της Δ' τάξης και 22 μαθητές της Ε' τάξης. Πόσο θα πληρώσουν οι μαθητές για τα λεωφορεία που ενοικίασαν αν το κόστος εισιτηρίου ισούται με το  $\frac{1}{8}$  του συνολικού αριθμού των μαθητών;

Λύση:



Απάντηση.....

• Αν κάθε μαθητής ξόδεψε το  $\frac{1}{2}$  του ποσού του εισιτηρίου σε φαγητό, πόσα χρήματα ξόδεψαν συνολικά όλοι οι μαθητές;

Λύση:



Απάντηση: .....

**ΘΕΜΑΤΑ ΑΓΓΛΙΚΩΝ:**

Answer the questions. Write sentences.

1. How old are you?

---

2. What class do you like at school?

---

---

3. What is your favourite sport?

---

---

4. What do you eat for breakfast?

---

---