

ΙΔΙΩΤΙΚΑ ΕΚΠΑΙΔΕΥΤΗΡΙΑ «ΡΟΔΙΩΝ ΠΑΙΔΕΙΑ»**ΓΡΑΠΤΟΙ ΔΙΑΓΩΝΙΣΜΟΙ ΓΙΑ ΤΟ ΠΡΟΓΡΑΜΜΑ ΥΠΟΤΡΟΦΙΩΝ ΣΧΟΛΙΚΟΥ ΕΤΟΥΣ****2012-2013****ΒΑΘΜΙΔΑ: ΔΗΜΟΤΙΚΟ ΤΑΞΗ: Ε****ΡΟΔΟΣ 20 ΜΑΪΟΥ 2012**

Διάβασε προσεκτικά τις ερωτήσεις και προσπάθησε να απαντήσεις με σαφήνεια σε όσο το δυνατόν περισσότερα θέματα και μέσα στο χρονικό περιθώριο που έχεις.

Οι απαντήσεις σου πρέπει να αναπτυχθούν στο χώρο που υπάρχει μετά από κάθε ερώτηση, με μολύβι. Μπορείς να συνεχίσεις και στο χώρο των κενών σελίδων εφόσον εξαντληθούν οι υπάρχουσες κενές γραμμές στα θέματα. Επίσης τις κενές σελίδες μπορείς να χρησιμοποιήσεις και για πρόχειρο.

ΚΑΛΗ ΕΠΙΤΥΧΙΑ!**ΘΕΜΑΤΑ ΓΛΩΣΣΑΣ:**

1. Να συμπληρώσεις ορθογραφημένα τα κενά του παρακάτω αποσπάσματος και να τονίσεις όπου χρειάζεται.

«Η Ζωρζ Σαρή με το παρ__ν της βιβλίο “Ο Θ__σαυρός της Βαγίας” δι__γ__ται τις περιπετει__δ__ς ιστορίες που βι__νει στην Αίγινα μια παρέα παιδιών στα χρόνια της Κατοχής. Στην αρχή ξεκίνησε σαν παιχνίδι μα έμελλε να συναντήσει μεγάλη επιτ__χία. Το γεγ__νός αυτό στάθηκε καθοριστ__κό για τη Ζωρζ Σαρή, αφού από τότε αποφάσισε να στραφεί στο γράψιμο. “Στο γράψιμο βρήκα ό,τι δεν μπορούσα να βρω στο θέατρο, ίσως γιατί δεν ήμουν πρωταγωνίστρια και ίσως γιατί δεν ήμουν σε θέση να διαλέξω τους ρόλους που ο θιασάρχης ή ο σκ__νοθέτης διάλεγαν για μένα. Τώρα φέρω ακέρ__η την ευθ__νη των βιβλίων μου. Κάνω αυτό που θέλω, αυτό που μπορώ”, λέει σε σ__νέντευξή της». Το 1994 βραβεύτηκε με το Κρατικό Βραβείο Παιδικού Λογοτεχνικού Βιβλίου, καθώς και από τον Κύκλο Ελληνικού Παιδικού Βιβλίου, ο οποίος τη βράβευσε ξανά το 1999. Επίσης, το 1988 προτάθηκε για το βραβείο Χ.Κ. Άντερσεν.

2. Προσπάθησε να απαντήσεις (ολοκληρωμένα) στις ερωτήσεις που ακολουθούν:

- Με ποια επαγγέλματα ασχολήθηκε η Ζωρζ Σαρή;

- Ποιο επάγγελμα την ικανοποίησε περισσότερο και γιατί;

- Πιστεύεις ότι είναι ευχάριστη η δουλειά του ηθοποιού; Δικαιολόγησε την άποψή σου.

- Τι σημαίνει η φράση: «να στραφεί στο γράψιμο»;

- A. να ασχοληθεί με τη συγγραφή
- B. να αλλάξει τον τρόπο που έγραφε ως τότε
- Γ. να αγαπήσει το γράψιμο
- Δ. να μάθει τα μυστικά του καλού συγγραφέα



- Πόσες φορές βραβεύτηκε η Ζωρζ Σαρή σύμφωνα με το απόσπασμα;

- A. μία φορά
- B. δύο φορές
- Γ. τρεις φορές
- Δ. τέσσερις φορές



3. Μπορείς να βρεις και να γράψεις μια εξαρτημένη αιτιολογική πρόταση που συναντάμε στο απόσπασμα της άσκησης 1;

4. Συμπλήρωσε μία συνώνυμη λέξη για καθεμία έντονα σκιασμένη από το απόσπασμα της άσκησης 1.

- 1. _____
- 2. _____
- 3. _____
- 4. _____

5. Αφού εντοπίσεις στο απόσπασμα της άσκησης 1 τον ευθύ λόγο να μεταφέρεις σε πλάγιο μόνο την πρώτη περίοδό του.

<hr/> <hr/> <hr/> <hr/> <hr/> <hr/> <hr/> <hr/>

6. Μπορείς να καταγράψεις τρεις περιπτώσεις με τις οποίες δηλώνεται ο χρόνος στο απόσπασμα της άσκησης 1, σύμφωνα με το παράδειγμα;

• *στα χρόνια της Κατοχής: εμπρόθετος προσδιορισμός του χρόνου ή φράση με πρόθεση που δηλώνει το χρόνο*

- ---

- ---

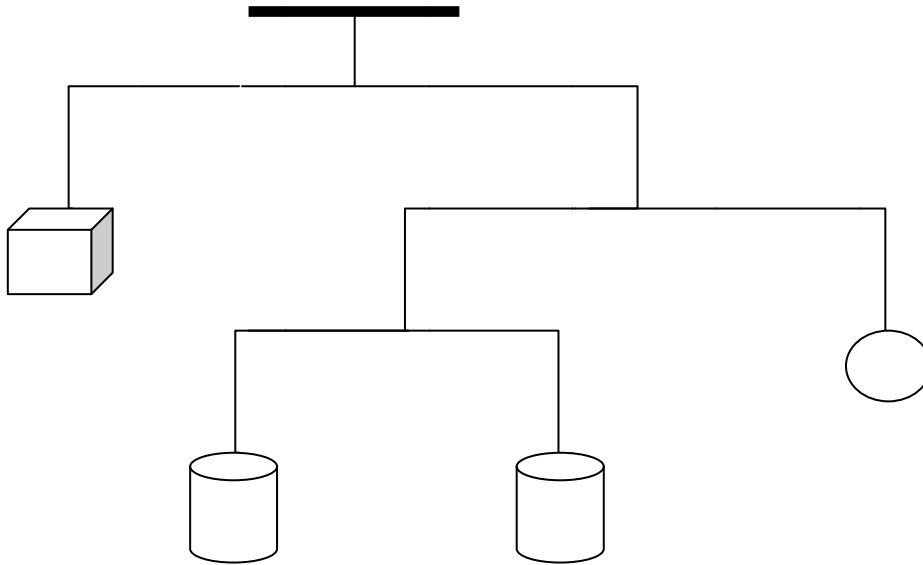
- ---

7. Να μεταφέρεις όλη την πρώτη περίοδο του αποσπάσματος της άσκησης 1 σε παροντικό χρόνο (εκτός από αυτόν που είναι ήδη).

<hr/> <hr/> <hr/> <hr/> <hr/> <hr/> <hr/> <hr/>

ΘΕΜΑΤΑ ΜΑΘΗΜΑΤΙΚΩΝ:

1. Στο πιο κάτω σχήμα παρουσιάζεται μια ζυγαριά που ισορροπεί. Αν γνωρίζουμε ότι ο κύβος, οι κύλινδροι και η σφαίρα ζυγίζουν μαζί 80 kg, πόσο ζυγίζει η σφαίρα;



- A. 10 kg
- B. 15 kg
- Γ. 20 kg
- Δ. 25 kg
- E. 30 kg

Δικαιολόγησε την απάντησή σου:

2. Ο Κώστας, η Μαρία και η Γεωργία αγόρασαν ορισμένα σνακς. Οι ποσότητες και το τι πλήρωσαν αναγράφονται στον πίνακα.

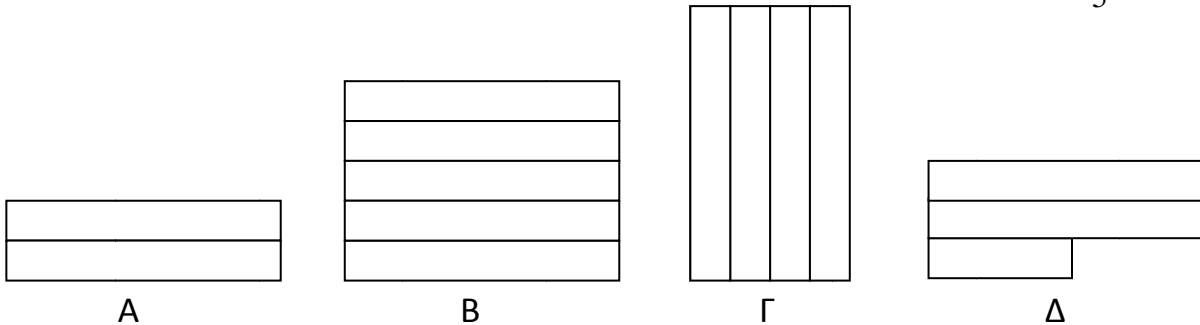
	Σοκολάτα	Τοστ	Χυμός	Σύνολο
Κώστας	0	2	2	10 €
Μαρία	1	1	1	9 €
Γεωργία	2	2	0	12 €

Πόσο κοστίζει η σοκολάτα;

- A) 1 €
- B) 2 €
- Γ) 3 €
- Δ) 4 €
- Ε) 5 €

Δικαιολόγησε την απάντησή σου:

3. Ποιο είναι το όλο αν κάθε αντιπροσωπεύει τα $\frac{2}{5}$ του όλου;



Δικαιολόγησε την απάντησή σου:

4. Ένας ζωολογικός κήπος παρέλαβε 6 ζώα και συγκεκριμένα: ένα αρσενικό λιοντάρι, μία τίγρη, έναν πίθηκο, ένα θηλυκό λιοντάρι, ένα ελάφι και μία ζέβρα. Οι υπεύθυνοι του ζωολογικού κήπου πρέπει να τοποθετήσουν αυτά τα ζώα σε 4 ειδικά διαμορφωμένους χώρους που είναι κενοί αυτή τη στιγμή, τηρώντας τους παρακάτω περιορισμούς:

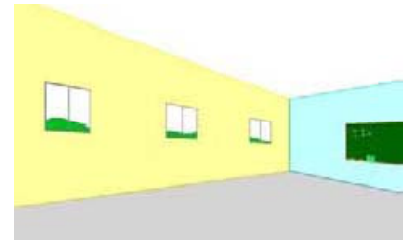
- το αρσενικό λιοντάρι δεν πρέπει να μπει στον ίδιο χώρο με το ελάφι
- για να μπει το θηλυκό λιοντάρι μαζί με το αρσενικό πρέπει να είναι μαζί και ένα άλλο ζώο
- ο πίθηκος δεν μπορεί να είναι στον ίδιο χώρο με τα λιοντάρια και την τίγρη
- Η ζέβρα δεν μπορεί να μείνει μόνο της σε ένα χώρο αλλά δεν μπορεί να είναι και με περισσότερα από ένα

Με βάση τους παραπάνω και μόνο περιορισμούς, ποιο από τα παρακάτω ζώα μπορεί να μπει στον ίδιο χώρο με το αρσενικό και το θηλυκό λιοντάρι;

A) η ζέβρα B) το ελάφι Γ) η τίγρης Δ) ο πίθηκος Ε) τίποτα από αυτά

Δικαιολόγησε την απάντησή σου:

5. Τα παιδιά της Πέμπτης τάξης αποφάσισαν να βάψουν έναν τοίχο της τάξης τους. Ο τοίχος έχει σχήμα ορθογώνιο με μήκος 8 m και ύψος 4 m και 2 παράθυρα που το καθένα έχει εμβαδό 1 τετραγωνικό μέτρο. Στο χρωματοπωλείο ο κ. Μηνάς τους είπε ότι ένα κουτί μπογιά φτάνει για να βαφτούν 5 τετραγωνικά μέτρα τοίχου και κοστίζει 3,5 € .



Πόσο θα πληρώσουν για να βάψουν τον τοίχο;

Λύση:
