

ΙΔΙΩΤΙΚΑ ΕΚΠΑΙΔΕΥΤΗΡΙΑ «ΡΟΔΙΩΝ ΠΑΙΔΕΙΑ»
ΓΡΑΠΤΟΙ ΔΙΑΓΩΝΙΣΜΟΙ ΓΙΑ ΤΟ ΠΡΟΓΡΑΜΜΑ ΥΠΟΤΡΟΦΙΩΝ ΣΧΟΛΙΚΟΥ
ΕΤΟΥΣ 2012-2013
ΒΑΘΜΙΔΑ: ΔΗΜΟΤΙΚΟ ΤΑΞΗ: Δ
ΡΟΔΟΣ 20 ΜΑΪΟΥ 2012

Διάβασε προσεκτικά τις ερωτήσεις και προσπάθησε να απαντήσεις με σαφήνεια σε όσο το δυνατόν περισσότερα θέματα και μέσα στο χρονικό περιθώριο που έχεις.

Οι απαντήσεις σου πρέπει να αναπτυχθούν στο χώρο που υπάρχει μετά από κάθε ερώτηση, με μολύβι. Μπορείς να συνεχίσεις και στο χώρο των κενών σελίδων εφόσον εξαντληθούν οι υπάρχουσες κενές γραμμές στα θέματα. Επίσης τις κενές σελίδες μπορείς να χρησιμοποιήσεις και για πρόχειρο.

ΚΑΛΗ ΕΠΙΤΥΧΙΑ

ΘΕΜΑΤΑ ΓΛΩΣΣΑΣ

1. Να συμπληρώσεις ορθογραφημένα τα κενά του παρακάτω αποσπάσματος και να τονίσεις όπου χρειάζεται.

«Σ' εκείνη τη μεγάλη και την πλούσια χώρα μεγάλωνε κάποιος ζωγράφος το παιδί του. Του μικρού του άρεσε να ζωγραφίζει πουλιά. Γιατί, καθ__ς έλεγε ο καλός πατέρας του, απ' όλα τα πλάσματα του κόσμου, τα πουλιά ήταν εκείνα που έφτιαξε πρώτα ο Θεός. Τα παρατ__ρούσε με θαυμασμό ο γιος του καλλιτέχνη και ζωγράφιζε κάθε __δους πουλιά. Μικρά, μεγάλα, πολύχρωμα, χαρούμενα, έξυπνα, λυπημένα, **τρομαγμένα** πουλιά. Όταν το αγόρι έγινε ε__ιά χρονών, ο πατέρας του το φώναξε κοντά του και του είπε: «Παιδί μου, ήρθε π__α η ώρα να ζωγραφίσεις κι άλλα πράγματα». Και παίρν__ντάς το μαζί του σε μακρινούς περιπάτους στη φύση, άρχισε να του δ__χνει τα περήφανα βουνά, τα βαθυπράσινα δάσ__, τις μελαγχολικές λίμνες, τα βιαστ__κά ποτάμια, την αφρισμένη θάλασσα, τ__ς βοτσαλένιες παραλίες, τα ταπεινά αγριολούλουδα, τον ολάνθιστο κάμπο».

2. Προσπάθησε να απαντήσεις (ολοκληρωμένα) στις ερωτήσεις που ακολουθούν:

• Το παραπάνω απόσπασμα αναφέρεται:

- A. σε έναν παππού και στο εγγόνι του
- B. σε έναν πατέρα και στην κόρη του
- Γ. σε έναν πατέρα και στο γιο του
- Δ. σε μια μητέρα και στο παιδί της



• Με τι ασχολούνται οι ήρωες του παραπάνω αποσπάσματος;

- A. με την καλλιέργεια του εδάφους
- B. με την εξερεύνηση της φύσης
- Γ. με τη ζωγραφική
- Δ. με τη μουσική και τη ζωγραφική

- Τι ήθελε κυρίως να κάνει το παιδί και γιατί;

- Πώς ήταν η εμφάνιση αυτών που έφτιαχνε το παιδί;

- Απ' όλες τις «εικόνες» σχετικά με τη φύση που αναφέρονται στο απόσπασμα ποια σου αρέσει πιο πολύ και γιατί;

3. Μπορείς να σημειώσεις Κ για την κυριολεξία και Μ για τη μεταφορά στις παρακάτω φράσεις;

- | | |
|---------------------------|-----------------------------|
| ▪ περήφανα βουνά () | ▪ αφρισμένη θάλασσα () |
| ▪ μελαγχολικές λίμνες () | ▪ ταπεινά αγριολούλουδα () |

4. Συμπλήρωσε μία συνώνυμη λέξη για καθεμία έντονα σκιασμένη από το απόσπασμα της άσκησης 1.

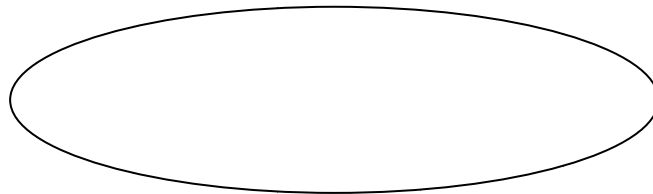
1. _____
2. _____
3. _____
4. _____

5. Να μεταφέρεις από το απόσπασμα της άσκησης 1 όλη την πρώτη πρόταση στον άλλο αριθμό.

6. Αφού προσέξεις τη φράση στα εισαγωγικά που ακολουθεί να υπογραμμίσεις τις κτητικές αντωνυμίες και να κυκλώσεις τις προσωπικές.

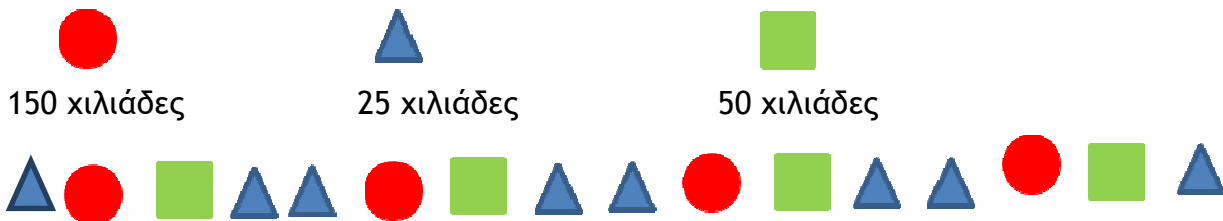
«Ο πατέρας του το φώναξε κοντά του και του είπε»

7. Να βάλεις στον παρακάτω κύκλο ένα ρήμα από το απόσπασμα της άσκησης 1 που βρίσκεται σε Αόριστο χρόνο και Υποτακτική έγκλιση



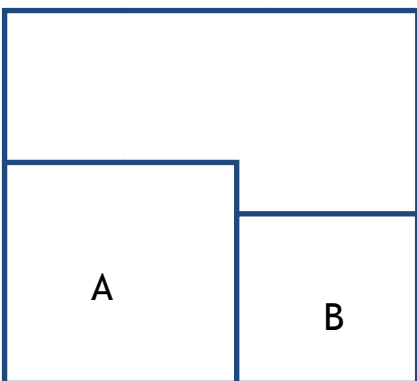
ΘΕΜΑΤΑ ΜΑΘΗΜΑΤΙΚΩΝ:

Θέμα 1^ο: Υπολογίζω την αξία του μοτίβου.



- α. 950.000 β. 1.150.000 γ. 1.000.000 δ. 875.000 ε. 1.200.000

Θέμα 2^ο: Ένα τετράγωνο περιέχει δυο μικρότερα τετράγωνα το Α και το Β με εμβαδά 25 τετραγωνικά μέτρα και 16 τετραγωνικά μέτρα αντίστοιχα. Να υπολογίσετε την περίμετρο του μεγάλου τετραγώνου.




- α. 41 τετραγωνικά μέτρα
 β. 32 μέτρα
 γ. 36 μέτρα
 δ. 81 τετραγωνικά μέτρα
 ε. κανένα από τα παραπάνω

Θέμα 3^ο: Πόσο είναι το $\frac{1}{4}$ του $\frac{1}{2}$ του 200;

- α. 50 β. 100 γ. 100 δ. 25 ε. 12,5

Θέμα 4^ο: Στην παρακάτω μαργαρίτα, η Διονυσία αφαιρεί όλα τα πέταλα των οποίων οι αριθμοί, όταν διαιρεθούν με το 7 δίνουν υπόλοιπο 2. Ποιο είναι το άθροισμα των πετάλων που έχουν απομείνει;



- α. 170
β. 207
γ. 184
δ. 256
ε. 245

Θέμα 5^ο: Τα 6 αυτοκόλλητα κοστίζουν 90 λεπτά. Πόσο κοστίζουν τα 9 αυτοκόλλητα;

- α. 135 λεπτά β. 1 ευρώ και 25 λεπτά γ. 60 λεπτά δ. 54 λεπτά ε. 120 λεπτά

Θέμα 6^ο: Ο κ. Πέτρος στάθμευσε το αυτοκίνητό του στον δημοτικό χώρο στάθμευσης «Ο Κολοσσός», από τις 11:05 π.μ. μέχρι τις 2:40 μ.μ. Με βάση τον πίνακα με τις τιμές πόσο πλήρωσε συνολικά για να παρκάρει το αυτοκίνητό του;

1 ^η ώρα	1,50 €
Κάθε επιπρόσθετη ώρα	0,80 €
Μέγιστο ημερήσιο ποσό	7 €

- α. 3,20 € β. 7 € γ. 3,90 € δ. 6 € ε. 3,10 €

