

ΙΔΙΩΤΙΚΑ ΕΚΠΑΙΔΕΥΤΗΡΙΑ «ΡΟΔΙΩΝ ΠΑΙΔΕΙΑ»

ΓΡΑΠΤΟΙ ΔΙΑΓΩΝΙΣΜΟΙ ΓΙΑ ΤΟ ΠΡΟΓΡΑΜΜΑ ΥΠΟΤΡΟΦΙΩΝ ΣΧΟΛΙΚΟΥ ΕΤΟΥΣ 2012-2013

ΤΑΞΗΒΑΘΜΙΔΑ.....

ΡΟΔΟΣ 20 ΜΑΪΟΥ 2012

Διάβασε προσεκτικά τις ερωτήσεις και προσπάθησε να απαντήσεις με σαφήνεια σε όσο το δυνατόν περισσότερα θέματα και μέσα στο χρονικό περιθώριο που έχεις.

Οι απαντήσεις σου πρέπει να αναπτυχθούν στο χώρο που υπάρχει μετά από κάθε ερώτηση, με μολύβι. Μπορείς να συνεχίσεις και στο χώρο των κενών σελίδων εφόσον εξαντληθούν οι υπάρχουσες κενές γραμμές στα θέματα. Επίσης τις κενές σελίδες μπορείς να χρησιμοποιήσεις και για πρόχειρο.

ΚΑΛΗ ΕΠΙΤΥΧΙΑ!

ΘΕΜΑΤΑ ΓΛΩΣΣΑΣ:

1. Διάβασε προσεκτικά το παρακάτω κείμενο πρόσκλησης και απάντησε στις ερωτήσεις που ακολουθούν:

ΠΡΟΣΚΛΗΣΗ

38 χρόνια μετά ...Τιμούμε Την εξέγερση του Πολυτεχνείου
και σας προσκαλούμε στη **ΜΟΥΣΙΚΗ ΕΚΔΗΛΩΣΗ**
που θα πραγματοποιηθεί στο **ΔΗΜΟΤΙΚΟ ΘΕΑΤΡΟ ΚΟΡΙΝΘΟΥ**,
την Πέμπτη 17/11/11 και ώρα 8 το απόγευμα

ΣΥΜΜΕΤΕΧΟΥΝ:
Το Μουσικό Συγκρότημα **ΓΟΡΔΙΟΣ ΔΕΣΜΟΣ**
Η χορωδία **ΦΟΙΒΟΣ**



ΔΙΟΡΓΑΝΩΣΗ: Κέντρο Πολιτισμού, Αθλητισμού και Περιβάλλοντος του Δήμου Κορινθίων
Ο Δήμος Κορινθίων
Η Α' ΕΛΜΕ Κορινθίας

➤ **Ποιος διοργανώνει την εκδήλωση;**

➤ **Για ποιο λόγο γίνεται αυτή η μουσική εκδήλωση;**

➤ Πότε και πού θα γίνει η γιορτή;

➤ Τι σημαίνει η ημερομηνία 17/11/11; Κύκλωσε το σωστό.

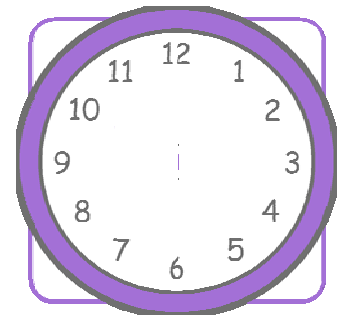
A) 17 Δεκεμβρίου 2011

B) 17 Νοεμβρίου 2011

Γ) 17 Οκτωβρίου 2011

Δ) 11 Νοεμβρίου 2017

➤ Μπορείς να βάλεις τους δείκτες στο ρολόι ώστε να δείξεις την ώρα που θα γίνει η παραπάνω μουσική εκδήλωση;



2. Μπορείς να βοηθήσεις το βατραχάκι να φτιάξει μια πρόσκληση για το πάρτι των γενεθλίων του;





Πρόσκληση



3. Τι χρειαζόμαστε για να οργανώσουμε ένα υπέροχο πάρτι; Ψάξε μέσα στο κρυπτόλεξο βρες τις λέξεις (τέσσερις σε κάθε κατηγορία) και τοποθέτησέ τες στο σωστό κουτάκι:

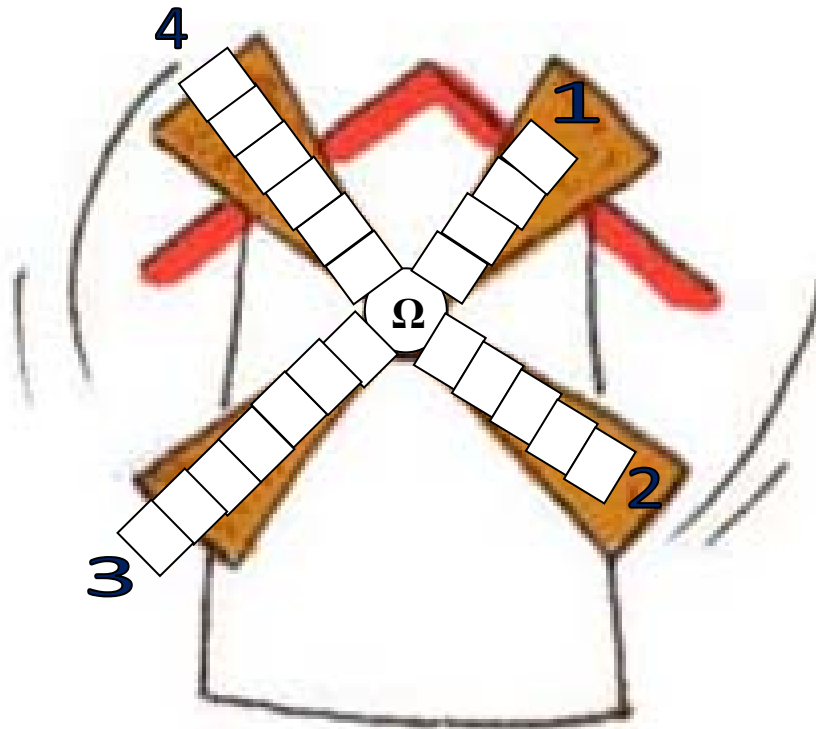
Φ	Κ	Λ	Τ	Μ	Π	Α	Λ	Ο	Ν	Ι	Α	Γ	Κ	Λ	Ο	Π	Τ
Α	Ο	Κ	Ο	Κ	Κ	Ι	Ν	Α	Κ	Λ	Ι	Ε	Α	Ω	Τ	Ρ	Ο
Σ	Χ	Υ	Ο	Ξ	Β	Η	Λ	Η	Ν	Γ	Ρ	Υ	Ρ	Τ	Ρ	Σ	Υ
Κ	Ψ	Ρ	Σ	Ψ	Ν	Γ	Κ	Α	Φ	Ι	Η	Σ	Σ	Η	Υ	Κ	Ρ
Ο	Ω	Φ	Ε	Κ	Γ	Μ	Ν	Ι	Α	Ε	Ρ	Τ	Α	Υ	Ο	Α	Τ
Υ	Β	Ω	Σ	Γ	Ω	Τ	Ρ	Ε	Φ	Ψ	Γ	Ι	Β	Γ	Λ	Λ	Α
Π	Ν	Β	Ψ	Γ	Η	Ν	Β	Ν	Μ	Ξ	Θ	Κ	Ε	Φ	Λ	Ω	Θ
Ι	Τ	Ρ	Ε	Λ	Ο	Φ	Ω	Β	Ω	Δ	Κ	Ε	Φ	Ι	Γ	Ξ	Μ
Ζ	Ν	Ν	Δ	Ω	Χ	Γ	Τ	Ω	Ξ	Ι	Θ	Σ	Υ	Λ	Υ	Ι	Ο
Ω	Ξ	Μ	Ι	Λ	Ι	Λ	Δ	Ι	Α	Σ	Κ	Ε	Δ	Α	Ζ	Ω	Κ
Σ	Η	Ν	Η	Ξ	Κ	Ι	Ο	Π	Μ	Ξ	Δ	Π	Ι	Τ	Ε	Σ	Γ
Γ	Λ	Υ	Κ	Ι	Α	Η	Μ	Ι	Μ	Α	Ζ	Ε	Υ	Ω	Ω	Β	Μ

Ουσιαστικά

Επίθετα

Ρήματα

4. Συμπλήρωσε με κεφαλαία τις λέξεις στον ανεμόμυλο. Οι λέξεις που ψάχνουμε τελειώνουν στο γράμμα «Ω» που βρίσκεται στο κέντρο του ανεμόμυλου.




Τι κάνω;

1. Ασχολούμαι με το πλύσιμο.
2. Ασχολούμαι με το χορό.
3. Ασχολούμαι με την οργάνωση της γιορτής.
4. Ασχολούμαι με το στόλισμα.

ΘΕΜΑΤΑ ΜΑΘΗΜΑΤΙΚΩΝ

Θέμα 1°

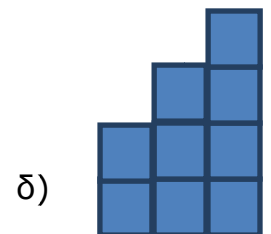
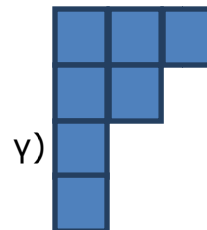
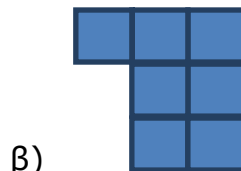
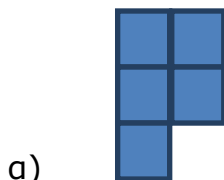

Το ρολόι δείχνει την ώρα που τέλειωσε η Μαρία τα μαθήματά της. Αν χρειάστηκε 40 λεπτά για να ολοκληρώσει τις εργασίες της, τι ώρα ξεκίνησε; Κύκλωσε το σωστό.



- α) 12:40 β) 11:15 γ) 11:30 δ) 12:15 ε) 11:40

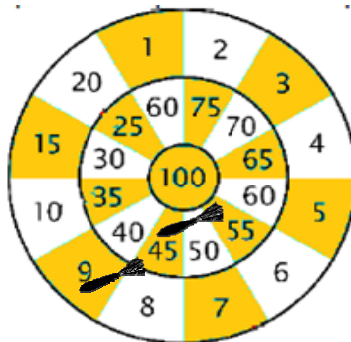
Θέμα 2°

Ποιο από τα σχήματα μπορεί να συμπληρώσει το παρακάτω σχήμα ώστε να σχηματιστεί ορθογώνιο παραλληλόγραμμο; Κύκλωσε το σωστό.



Θέμα 3°

Ο Ιάσωνας έριξε στο στόχο 4 βελάκια και πέτυχε συνολικά 80 πόντους. Τα δυο βέλη φαίνονται στο στόχο. Πόσους πόντους πέτυχε με το τρίτο και το τέταρτο βέλος; Κύκλωσε το σωστό.



- α) 15 και 11 γ) 10 και 16 γ) 20 και 6 δ) 21 και 5 ε) 15 και 10

Θέμα 4°

Παρακάτω παρουσιάζεται η αρχή ενός μοτίβου που αποτελείται από 25 αντικείμενα. Πόσα αστέρια υπάρχουν σε ολόκληρο το μοτίβο; Κύκλωσε το σωστό.



- α) 7 β) 8 γ) 11 δ) 15 ε) 17

Θέμα 5°

Ο κύριος Γιώργος έκανε καταμέτρηση των αγελάδων και των προβάτων που έχει στη φάρμα του και βρήκε ότι τα πρόβατα και οι αγελάδες είναι 16. Οι αγελάδες είναι 4 περισσότερες από τα πρόβατα. Πόσα είναι τα πρόβατα; Κύκλωσε το σωστό.



- α) 2 β) 3 γ) 4 δ) 5 ε) 6

Θέμα 7°

Ένας μανάβης πούλησε 167 κιλά αχλάδια τη Δευτέρα και 21 κιλά περισσότερα την Τρίτη. Πόσα κιλά αχλάδια πούλησε και τις δύο μέρες μαζί;

Λύση:



Απάντηση: